

CONHECIMENTOS GERAIS

01.

“Senhoras e senhores, prestem muita atenção
Que agora eu vou falar sobre a constituição
Aquele que criou o SUS
Garantindo direitos para toda população
Lá em 88 o nosso SUS nasceu
Fruto de muita luta que reforma sanitária precedeu
E hoje colhemos o fruto que essa luta nos deu”


Cordel da Equidade.

Erivaldo Santos de Lima, Marcos Paulo Santana de Oliveira e Jucélia Gonçalves de Souza Alves

O trecho do cordel apresenta o movimento sanitário enquanto meio que lançou novas bases para a saúde no Brasil. Sobre essa temática, assinale a alternativa que apresenta, de forma CORRETA, um legado da Reforma Sanitária.

- A) Manutenção do acesso excludente à atenção à saúde no SUS.
- B) Preservação do ideário antidemocrático vigente no país.
- C) Formulação de um projeto para favorecimento do empresariado da saúde.
- D) Difusão da noção do direito à saúde.
- E) Exacerbação assimétrica do controle do setor privado sobre as políticas de saúde.

02. Observe a imagem abaixo:



Em julho de 2024, o Ministério da Saúde instituiu o incentivo financeiro federal de investimento voltado para estruturação dos Pontos de Telessaúde no âmbito do Programa SUS Digital.

Essa iniciativa é diretamente atrelada à seguinte atribuição do SUS:

- A) incrementar o desenvolvimento científico e tecnológico e a inovação.
- B) participar da produção de medicamentos para saúde.
- C) executar ações de saneamento básico.
- D) executar ações da vigilância sanitária.
- E) fiscalizar a produção de produtos psicoativos.

03. Acerca da atuação dos laboratórios públicos na produção de princípios ativos para tratamento de doenças determinadas socialmente, assinale a alternativa CORRETA.

- A) É vedada a produção de fármacos pelos laboratórios públicos, sendo permitida, apenas, a importação.
- B) É vedada a adaptação de linha produtiva mediante convênio com o fim de capacitar laboratórios para a produção de fármaco.
- C) É autorizada ao poder público a busca de parcerias internacionais com laboratórios farmoquímicos para aprimorar a atuação dos laboratórios de natureza pública.
- D) É autorizada, ao poder público a busca de parcerias com laboratórios apenas em âmbito nacional para aprimorar a atuação dos laboratórios de natureza pública.
- E) É vedado ao poder público o estímulo à adequação de laboratórios públicos por intermédio de laboratórios farmoquímicos internacionais.

04. Leia abaixo o recorte de um artigo científico publicado em um periódico de enfermagem que versa acerca da Navegação de Pacientes (NP).

Desenvolvida nos Estados Unidos, em 1990, pelo médico Harold Freeman no Hospital Harlem em Nova York, a NP é uma prática baseada em evidências. Definida como um processo sistematizado, executado por um profissional denominado navegador de pacientes, envolve a avaliação das necessidades, planejamento e implementação de ações para a coordenação do cuidado focado em auxiliar os pacientes na superação das barreiras que dificultam seu acesso à assistência em saúde. É uma das formas eficientes de colocar em prática o cuidado centrado na pessoa, ou seja, em suas necessidades e prioridades.

Pautasso FF, Trevilato DD, Caregnato RCA, Floriani MA, Pertile N de M, Pizzol Junior AD, et al. The path to implementing a patient navigation program in oncology: an experience report. Online Braz J Nurs. 2024;22 Suppl 2:e20246691.

Nesse contexto, assinale a alternativa CORRETA acerca do Programa Nacional de Navegação da Pessoa com Diagnóstico de Câncer.

- A) A navegação do usuário abrange desde a busca ativa ao acompanhamento individualizado do mesmo no processo de adoecimento.
- B) O objetivo principal do programa consiste em tratar os casos de câncer no território nacional.
- C) A navegação dos pacientes com câncer abrange a articulação entre a média e a alta complexidade, cabendo à atenção básica apenas o rastreamento de casos.
- D) As barreiras constituem aspectos relacionados à estruturação física dos dispositivos assistenciais na Rede de Atenção, apenas.
- E) O objetivo do programa de navegação é facilitar o acesso de pacientes com câncer aos serviços de saúde por meio de transporte fluvial em locais de difícil acesso.

05. Os Conselhos de Saúde possuem o regimento interno enquanto documento regulamentador do processo de funcionamento e trabalho.

Acerca da apreciação e aprovação desse documento, é CORRETO afirmar que compete à (ao)

- A) próprio conselho.
- B) secretário municipal de saúde.
- C) prefeito do município.
- D) conferência de saúde.
- E) câmara de vereadores local.

06. O reconhecimento das necessidades de saúde de uma população local, pela proximidade do serviço ao usuário adscrito, é atribuído à Atenção Básica (AB).

Outrossim, a organização das necessidades identificadas em relação aos outros diversos pontos de atenção da Rede de Atenção à Saúde atribui à AB a característica de

- A) porta de acesso.
- B) ordenadora do cuidado.
- C) primária.
- D) alta complexidade.
- E) igualitária.

07. De acordo com o Decreto 7.508 de 2011, o acesso aos serviços ambulatoriais especializados deve ocorrer através dos (das)

- A) próprios usuários através de demanda espontânea.
- B) hospitais de alta complexidade, apenas, após identificada a necessidade específica dos usuários.
- C) secretarias estaduais de saúde, apenas.
- D) portas de entrada.
- E) serviços especiais de acesso aberto, apenas.

08. Observe a imagem abaixo:

<p>Nome completo: _____</p> <p>Data de nascimento: _____</p> <p style="text-align: center;">ou</p> <p style="text-align: center;">Etiqueta do paciente</p>
<p>TERMO DE ESCLARECIMENTO, CIÊNCIA E CONSENTIMENTO PARA PROCEDIMENTOS DE AMPUTAÇÃO DE MEMBRO</p>
<p>Autorizo a realização de procedimento de amputação do membro abaixo discriminado, no nível anatômico em que for considerado necessário pelo cirurgião responsável e abaixo especificado,</p>
<p>No(a) paciente: _____</p>
<p>Declaro estar ciente dos limites anatômicos propostos da amputação e que estes poderão ser modificados no período intra- operatório pelo cirurgião responsável, visando os melhores interesses do paciente.</p>
<p>Membro a ser amputado (especificar lateralidade): _____</p>
<p>Recebi explicações claras sobre os potenciais benefícios, riscos, complicações e alternativas terapêuticas ao procedimento proposto e entendo que não pode haver garantia absoluta sobre os resultados desejados.</p>

A imagem apresenta um recorte de um termo de consentimento aplicado aos pacientes que se submetem a procedimentos de amputação de membros. Tal ação é envolta por aspectos que buscam, sobretudo, garantir a (o)

- A) inimizabilidade de pena ao cirurgião responsável pelo procedimento.
- B) faturamento hospitalar do procedimento realizado.
- C) respeito ao princípio ético da autonomia.
- D) registro estatístico da comorbidade que causou a necessidade da amputação.
- E) amputação do membro correto.

09. Em Pernambuco existe, desde 1992, o Centro de Informação e Assistência Toxicológica de Pernambuco (CIAtox). Esse centro, de relevada importância no Estado pernambucano, apresenta funcionamento ininterrupto todos os dias da semana e presta assistência a todos os municípios que necessitam manejar casos de intoxicações e acidentes por Essa iniciativa está CORRETAMENTE relacionada ao seguinte campo de atuação do SUS:

- A) execução da política de informação e assistência toxicológica e de logística de antídotos e medicamentos utilizados em intoxicações.
- B) fiscalização e inspeção de alimentos de consumo humano.
- C) formulação da política de sangue e derivado.
- D) monitorização do uso dos produtos psicoativos.
- E) não se relaciona a nenhum dos campos de atuação do SUS.

10. “A Justiça Federal suspendeu três concursos públicos em andamento por não atenderem aos níveis salariais da categoria”
brasil61.com

Notícias, como a citada acima, foram frequentes no ano de 2024. O descumprimento do piso salarial, sobretudo para a categoria de enfermagem, levou à suspensão de certames em todo o território nacional.

A respeito do piso salarial, considerando a Constituição Federal de 1988, assinale a alternativa INCORRETA.

- A) A complementação financeira para pagamento do piso é reservada aos Estados e aos Municípios.
- B) A assistência financeira complementar aos Municípios é competência da União.
- C) A observância do pagamento do piso salarial é voltada tanto para pessoas jurídicas de direito público quanto do privado.
- D) Para cumprimento do piso salarial, os serviços contratualizados devem atender, no mínimo, 60% (sessenta por cento) de seus pacientes pelo SUS.
- E) O conteúdo apresentado no corpo da questão é mencionado na Constituição Federal.

11. Observe a imagem abaixo.



O comportamento da sociedade atual, voltado para a produção e valorização dos anseios capitalistas, faz com que, de maneira normalizada, atos de capacitismo sejam realizados, muitas vezes, inconscientemente.

Nesse sentido, a bioética da intervenção busca, frente ao contexto apresentado, a (o)

- A) manutenção do utilitarismo capitalista.
- B) manutenção do paradigma existente da incapacidade da pessoa com deficiência física.
- C) continuidade dos comportamentos discriminatórios na sociedade atual.
- D) elaboração de políticas de combate ao capacitismo.
- E) fortalecimento do modelo hegemônico capitalista excludente das pessoas deficientes.

12. Uma das conquistas do Novo Programa de Aceleração do Crescimento (PAC) na área de Saúde foi a possibilidade de aquisição das Unidades Odontológicas Móveis (UOM).

Entrega Prevista:	Investimento:	Impacto:
400	R\$ 208 mi	800 mil
Unidades Odontológicas Móveis	investidos	pessoas

Com base nesse contexto, é CORRETO afirmar que tal aquisição encontra-se, especificamente, no seguinte campo de atuação do SUS:

- A) vigilância sanitária.
- B) saúde do trabalhador.
- C) vigilância epidemiológica.
- D) assistência farmacêutica.
- E) saúde bucal.

13. Observe a imagem abaixo:



O Centro de Referência Clarice Lispector, localizado em Recife, atende gratuitamente mulheres em situação de violência doméstica e/ou sexista. O Centro abriga, de forma emergencial, as usuárias vítimas de violência, acompanhadas ou não de filhos.

Sobre essa modalidade de atendimento, assinale a alternativa CORRETA.

- A) Retrata a garantia de privacidade à mulher vítima de violência no âmbito do SUS.
- B) Não consiste em uma modalidade de atendimento especializado para mulheres.
- C) Consiste em uma iniciativa da rede suplementar de saúde para dar suporte às mulheres vítimas de violência.
- D) Apesar de apresentar-se como uma importante iniciativa, não há no ordenamento legal do SUS qualquer menção a respeito deste serviço.
- E) Consiste em um serviço que corrobora com a violação dos direitos humanos.

14. Leia, atentamente, o resultado de um estudo científico acerca da realização de exames complementares nos serviços de saúde.

No que se refere aos exames realizados, nota-se que para os 293 pacientes investigados, foram solicitados 9.522 exames laboratoriais (em média 32,5 exames para cada paciente) e, destes, 568 exames foram considerados desnecessários (cerca de 6%) por terem sido solicitados fora do período estipulado pelo protocolo da SMS ou por terem sido solicitados para um mesmo paciente, em duas unidades de saúde de níveis de atenção diferentes, em períodos muito próximos. Destaca-se que não foi motivo de investigação os motivos pelos quais o paciente procurou atendimento em outro serviço.

<https://doi.org/10.1590/1983-1447.2014.04.44793>

Considerando o achado apresentado, observa-se que houve violação direta do seguinte princípio do SUS:

- A) universalidade do acesso.
- B) participação da comunidade.
- C) organização dos serviços públicos, de modo a evitar duplicidade de meios para fins idênticos.
- D) direito à informação às pessoas assistidas sobre sua saúde
- E) preservação da autonomia das pessoas.

15. A notícia abaixo demonstra a potencialidade danosa de eventos climáticos extremos sobre a saúde humana, impacto imediato real e consequências extensas que promovem um hiato entre a vida e a dignidade do ser humano.

Vítimas registradas até agora 'são apenas a ponta do iceberg' da tragédia no RS, diz pesquisador da Fiocruz



REUTERS

Resgate em Porto Alegre: desastres ambientais causam sequência de danos variados, da saúde à infraestrutura

<https://www.bbc.com/portuguese/articles/cd188p1n98jo>

A catástrofe climática exige ações urgentes a fim de mitigar os danos à população. Assinale abaixo o campo de atuação do SUS, a nível estadual, em que se enquadram as atuações multidisciplinares da saúde no contexto apresentado.

- A) Formar consórcios administrativos intermunicipais.
- B) Formular política de controle das agressões ao meio ambiente.
- C) Coordenar a execução das ações de vigilância epidemiológica.
- D) Participar das ações de controle das condições e dos ambientes de trabalho.
- E) Participar, junto com os órgãos afins, do controle dos agravos do meio ambiente que tenham repercussão na saúde humana.

16. Considerando o contexto histórico da Reforma Sanitária até os dias atuais, leia o trecho abaixo:

“Quando vimos pela primeira vez trabalhadores de saúde paramentados para proteção contra um vírus mortal, pessoas isoladas, cidades bloqueadas e desertas, lembramos das cenas de ficção de filmes, onde o enredo transcorria geralmente em torno do fim do mundo. Aos poucos percebemos que estávamos vivendo mesmo um ‘fim de mundo’, pelo menos, o que vivíamos até então. Aos poucos as pessoas foram formando a ideia de que a partir da Pandemia de Covid-19, o mundo seria outro”

<https://editora.redeunida.org.br/project/frente-pela-vida-em-defesa-da-vida-da-democracia-e-do-sus/>

Em meio à pandemia, surgiu a organização da sociedade civil denominada de Frente Pela Vida (FpV). A FpV emergiu em defesa da democracia, da ciência e do Sistema Único de Saúde (SUS).

Nesse contexto, assinale a alternativa que NÃO representa uma característica da FpV enquanto atualização Movimento da Reforma Sanitária.

- A) Fortalecimento de uma rede de movimentos sociais no setor saúde.
- B) Defesa do Sistema Único de Saúde.
- C) Defesa da democracia.
- D) Compromisso com a defesa do direito universal da saúde.
- E) Defesa de uma política capitalista de supremacia do sistema mercadológico.

17. A existência de organismos colegiados no âmbito do SUS pode ser evidenciada através de instâncias cuja composição exclusivamente governamental favorece a agilidade decisória. Ressalta-se que essas instâncias constituem espaço para definição das regras da gestão do SUS.

A definição apresentada no corpo da questão faz referência ao (à)

- A) Conselho de saúde.
- B) central de regulação.
- C) região de saúde.
- D) omissão intergestores.
- E) rede de atenção à saúde.

18. Observe a imagem abaixo:



Crianças Yanomami com desnutrição severa são atendidas por equipes do Ministério da Saúde. Foto: Condisi-YY/Divulgação

Nesse cenário de crise de Saúde na terra indígena Yanomami, a Força Nacional do SUS coopera, por meio de membros que se inscrevem espontaneamente e sem vinculação remuneratória, no auxílio das atividades assistenciais de saúde. Essa contribuição na construção de condições necessárias para o cumprimento dos compromissos atrelados ao Estado, sobretudo na prestação de serviços na área da saúde denomina-se

- A) misoginia.
- B) judicialização.
- C) voluntariado orgânico.
- D) eugenia.
- E) determinismo geográfico.

19. Em 2023, ocorreu um importante momento de análise da situação da saúde no Brasil. Nessa oportunidade, houve espaço para desenvolvimento das políticas públicas para a saúde, em que se oportunizou fortalecimento da democracia.



Assinale a alternativa **CORRETA** quanto às características da instância apresentada.

- A) Apresenta reuniões ordinárias realizadas quinzenalmente.
- B) Conta com a participação exclusiva do segmento gestão.
- C) Tem espaço físico permanente, situado na Secretaria Estadual de Saúde.
- D) Reúne-se a cada quatro anos, com a representação dos vários segmentos sociais.
- E) Apresenta caráter meramente consultivo.

20. “O Programa Melhor em Casa é uma iniciativa, que oferece cuidado domiciliar para pacientes que precisam de atenção contínua, evitando internações prolongadas e promovendo o conforto e a recuperação no ambiente familiar. Ele é voltado para pessoas que estejam passando por um momento de piora de sua doença e, por limitações temporárias ou permanentes, não conseguem se deslocar até uma unidade de saúde. Sem essa possibilidade de atendimento domiciliar, essas pessoas poderiam acabar necessitando de hospitalização.”

<https://www.gov.br/saude/pt-br/composicao/saes/melhor-em-casa>

A respeito do programa mencionado e considerando o subsistema de atendimento e internação domiciliar previsto em ordenamento legal, assinale a alternativa **INCORRETA**.

- A) Nessa modalidade de atendimento, está abrangida a assistência psicológica ao paciente.
- B) No âmbito familiar do paciente assistido, pode ser garantida a presença do profissional de assistência social, conforme necessidade.
- C) As equipes multidisciplinares atuarão nos níveis da medicina preventiva, terapêutica e reabilitadora.
- D) O atendimento domiciliar só poderá ser realizado por indicação médica.
- E) Uma vez estabelecida a indicação médica do internamento, a anuência dos familiares é dispensável.

POLÍTICAS DE SAÚDE

21. Acerca do financiamento do SUS, sabe-se que, em determinados projetos, o proponente compromete-se a realizar a inclusão, na proposta, de um complemento financeiro, com a finalidade de atingir um valor global pleiteado. O cálculo dessa parte deve considerar o valor total do objeto. O enunciado da questão refere-se à (ao)

- A) contrapartida.
- B) custeio dos serviços da rede de atenção.
- C) relatório de gestão.
- D) programação financeira anual da saúde.
- E) recurso de investimento estrutural.

22. Leia as definições abaixo:

- A. Instrumento central de planejamento e orçamento para o período de 4 anos. Este é elaborado no primeiro ano da gestão em curso, e a sua execução se dá a partir do segundo ano da gestão.
- B. Anualiza as metas contidas no plano de saúde e prevê a alocação orçamentária de acordo com as metas a serem executadas.
- C. Instrumento de planejamento cujo fim é a apresentação dos resultados alcançados por meio da execução da Programação Anual.

Realize a correlação com os itens abaixo apresentados:

- I. Programação Anual de Saúde
- II. Plano de Saúde
- III. Relatório de Gestão.

Assinale a alternativa que apresenta a correlação CORRETA.

- A) IA; IIB; IIIC.
- B) IA; IIIB; IIC.
- C) IIA; IB; IIIC.
- D) IIA; IIIB; IC.
- E) IC; IIIA; IIB.

23. Sabe-se que a avaliação de intervenções pode ocorrer por meio de avaliação normativa ou de pesquisa avaliativa. A normativa, através de critérios e normas específicas, verifica se os componentes da intervenção estão em conformidade com as normas. Considerando a modalidade previamente definida, assinale a alternativa que NÃO contempla um questionamento voltado para apreciação de estrutura.

- A) O dimensionamento de profissionais está correto?
- B) Os recursos farmacológicos são suficientes para demanda apresentada?
- C) O resultado da campanha atingiu o resultado esperado?
- D) O corpo profissional é adequadamente especializado para a função que exerce?
- E) A quantidade de impressos está adequada à necessidade do serviço?

24. No corrente ano de 2024, o Governo Federal lançou o Programa Mais Acesso a Especialistas – PMAE. Sobre os objetivos desse programa, leia o texto abaixo.

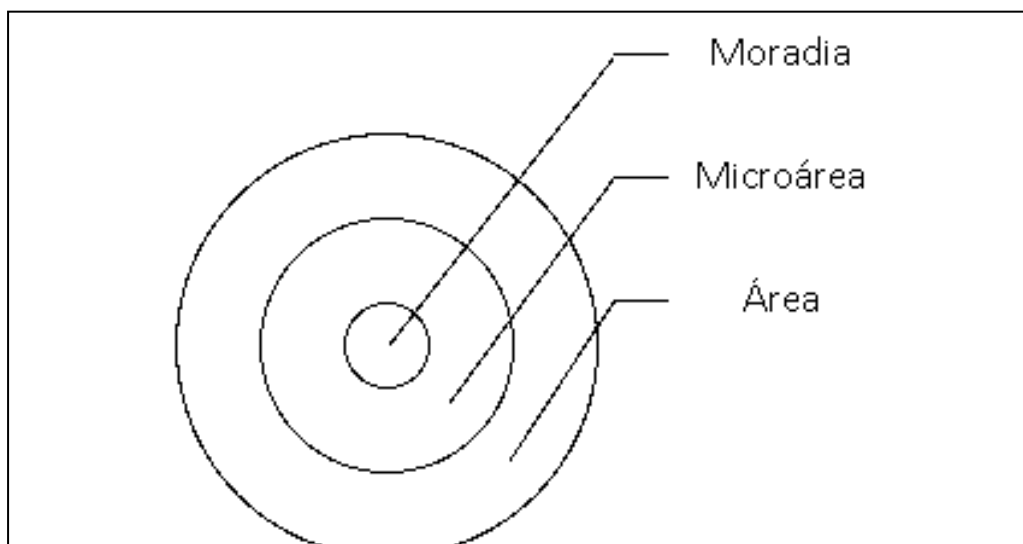
“Fomentar a mudança do modelo de gestão de filas e regulação do acesso à Atenção Ambulatorial Especializada, visando equidade, transparência, à adoção de uma base regional, ao foco na pessoa e na otimização de sua jornada, bem como ao uso de critérios clínicos para adequar a oferta de ações e serviços de saúde de acordo com as necessidades de saúde e assistenciais, estratificação de risco e vulnerabilidade”

Disponível em: <https://www.gov.br/saude/pt-br/composicao/saes/pmae>

Com base no exposto, pode-se inferir que

- A) a burocratização do acesso é um dos pilares do programa.
- B) o foco da regulação assistencial, compreendendo desde o fluxos, protocolos e gestão da informação, deve ser o usuário.
- C) o conhecimento da fila de espera e o perfil da necessidade dos usuário que compõe a lista não importam para a tomada de ação.
- D) a regulação assistencial, no âmbito do PMAE, não possui correlação com a coordenação do cuidado.
- E) a telerregulação ainda é uma realidade sem executoriedade e que não fornece melhoria na resolutividade assistencial.

25. Observe a imagem abaixo:



Fonte: própria do autor.

Assinale a alternativa que indica um título pertinente para a figura apresentada.

- A) Divisão territorial de atuação da atenção básica.
- B) Segmentação da área de atuação da Secretaria Estadual de Saúde (SES).
- C) Níveis de atenção da Rede de Atenção em Saúde – RAS.
- D) Subdivisão geográfica de um Estado.
- E) Área de atuação da alta complexidade.

26. A Política Nacional de Saúde Bucal, também conhecida como Brasil Sorridente, fornece acesso a serviços odontológicos através do Sistema Único de Saúde (SUS) sem qualquer custo aos usuários.

Assinale a alternativa que NÃO apresenta um serviço relacionado a essa política.

- A) Unidades Básicas de Saúde.
- B) Centros de Especialidades Odontológicas (CEO).
- C) Laboratórios Regionais de Prótese Dentária (LRPD).
- D) Unidade Odontológica Móvel (UOM).
- E) Casa de passagem.

27. Relacione CORRETAMENTE os itens (A, B e C) com os conceitos abaixo:

- | | |
|----|--------------------------|
| A. | Relatório Dawson |
| B. | Conferência de Alma-Ata |
| C. | Redes de Atenção à saúde |

Conceitos

- | | |
|------|--|
| I. | Realizada em 1978, consolida a discussão acerca da reestruturação do sistema de saúde na lógica da Rede de Atenção à Saúde. |
| II. | Organizações poliárquicas de serviços assistenciais de saúde, coordenadas pela atenção básica para oferecer uma atenção à saúde contínua e integral à população. |
| III. | Constructo pioneiro, elaborado em 1920, na ideia da mudança de sistema de saúde em esquema de rede. |

Assinale a alternativa que apresenta a correlação CORRETA.

- A) AI; BII; CIII.
- B) AI; BIII; CII.
- C) AIII; BI; CII.
- D) AII; BI; CIII.
- E) AII; BIII; CI.

28. Leia o conceito abaixo:

Pode ser visto como uma prática, um modo de fazer, uma técnica que possibilita o reconhecimento do ambiente, das condições de vida e da situação de saúde da população de determinado território, assim como o acesso dessa população a ações e serviços de saúde, viabilizando o desenvolvimento de práticas de saúde voltadas à realidade cotidiana das pessoas.
--

Fonte:ares.unasus.gov.br

A definição apresentada corresponde à seguinte diretriz do SUS:

- A) mapeamento geográfico.
 - B) territorialização.
 - C) participação da comunidade.
 - D) equidade.
 - E) integralidade.
-

29. A promoção da saúde atua em busca um estilo de vida mais saudável por intermédio da atuação conjunta entre indivíduo-sociedade-estado.

Considerando o conceito amplo de saúde, assinale a alternativa que NÃO favorece a ampliação da Promoção à Saúde na sociedade atual.

- A) Superação do modelo fragmentado de atenção à saúde
 - B) Empoderamento dos sujeitos
 - C) Estímulo à alimentação saudável
 - D) Combate ao tabagismo
 - E) Medicalização e imediatismo da sociedade moderna
-

30. As estratégias de educação dos trabalhadores de saúde, de nível médio, são específicas e normatizadas na Política Nacional de Educação Permanente de Saúde.

A respeito dessa temática, leia abaixo a notícia veiculada no ano corrente.

O Programa Saúde com Agente agora é o Mais Saúde com Agente. A mudança representa a ampliação da oferta dos cursos técnicos em Agentes Comunitários de Saúde (ACS) e Agentes de Combate às Endemias (ACE), promovendo qualificação profissional para um vínculo maior e mais forte com a população, além da integração entre Atenção Básica e Vigilância em Saúde no Sistema Único de Saúde (SUS).
A estratégia é uma ampliação do programa com objetivo de preparar ACS e ACE para as novas atribuições das categorias e para os desafios que se apresentam no trabalho em saúde nas comunidades.

<https://www.gov.br>

Considerando as especificações acerca da política mencionada, bem como as características do novo programa, assinale a alternativa INCORRETA.

- A) A formação de trabalhadores de nível técnico é uma iniciativa que contribui para a efetivação da política nacional de saúde.
 - B) Uma resposta atrelada ao programa exposto é a qualificação das ações desempenhadas pelos agentes.
 - C) A parceria com escolas de saúde do SUS, realizada para a descentralização do programa Mais Saúde com Agente, é uma iniciativa prevista na Política.
 - D) A atividade de qualificação deverá ser realizada desvinculada do âmbito de atuação profissional, a fim de não haver confusão entre hábitos normatizados e internalizados pelos agentes.
 - E) O Programa mais Saúde com Agente realizou processo seletivo específico para a entrada de tutores, o que se encontra de acordo com a Política mencionada no corpo da questão.
-

31. Considerando a importância da avaliação em saúde enquanto instrumento de gestão e aprimoramento das ações e serviços de saúde, é CORRETO afirmar que a definição das estratégias de institucionalização da avaliação da Atenção Básica compete à (ao)

- A) União.
 - B) Estado.
 - C) Município e Distrito Federal.
 - D) Ministério da saúde.
 - E) Secretaria estadual de saúde.
-

32. O caderno de educação popular em saúde relata que a educação popular “É uma estratégia de construção da participação popular no redirecionamento da vida social”.

Acerca dessa temática, analise as citações abaixo e assinale aquela que está de acordo com a definição apresentada.

- A) “Sem um fim social o saber será a maior das futilidades” (Gilberto Freyre)
- B) “É melhor ser temido do que amado” (Maquiavel)
- C) “Vi ontem um bicho na imundície do pátio catando comida entre os detritos. ... O bicho, meu Deus, era um homem.” (Manuel Bandeira)
- D) “A violência seja qual for a maneira que ela se manifesta é sempre uma derrota”. (Sartre)
- E) “Superar a pobreza não é um gesto de caridade, mas de justiça” (Nelson Mandela)

33. Considerando a carga horária semanal estabelecida para o funcionamento da equipe de saúde da família, bem como o cadastro de profissionais que a compõe no CNES, assinale a alternativa CORRETA.

- A) Não há obrigatoriedade de cadastro dos profissionais de nível superior no sistema.
- B) O cadastro da equipe não tem correlação com o financiamento.
- C) Os profissionais poderão estar vinculados a, apenas, 1 equipe.
- D) Aos profissionais de nível superior é permitido cadastro em 2 equipes.
- E) Não existe cadastro dos profissionais no CNES, mas apenas do estabelecimento.

34. Observe o texto abaixo:

A execução das ações de vigilância sanitária nos portos, aeroportos e fronteiras é competência da (do) _____, podendo ser, de maneira complementar, executada através da (do) _____.

Assinale a alternativa que completa CORRETAMENTE a sequência de lacunas acima.

- A) Estado; União.
- B) União; Estado.
- C) Município; Estado.
- D) Estado; Município.
- E) Município; União.

35. A execução de ações de campo voltadas para a pesquisa entomológica, malacológica ou coleta de reservatórios de doenças compete ao

- A) enfermeiro do PSF.
- B) médico do PSF.
- C) cirurgião-dentista do PSF.
- D) agente comunitário de saúde.
- E) agente de combate às endemias.

VIGILANCIA EM SAÚDE

36. Leia abaixo uma notícia veiculada acerca de um fenômeno climático que ocorreu em solo brasileiro.

Historicamente, só um furacão foi registrado na história do Brasil. Chamado de Catarina, ele atingiu o litoral do Rio Grande do Sul e de Santa Catarina em março de 2004. Na época, pelo menos 40 cidades foram atingidas. Segundo o Centro de Estudos em Engenharia e Defesa Civil da Universidade Federal de Santa Catarina, os ventos atingiram a região a uma velocidade de cerca de 180 km/h. Quatro pessoas morreram, 518 ficaram feridas e cerca de 33 mil, desabrigadas.

<https://www.bbc.com>

Assinale a alternativa cujo programa seria referência para implementar ações no cenário apresentado.

- A) VIGIDESASTRE.
- B) VIGIAGUA.
- C) VIGISUS.
- D) SI PNI.
- E) CADSUS.

37. Ela apresenta enquanto principal objetivo fazer cumprir os preceitos de Boas Práticas e coibir ações que possam representar riscos à saúde coletiva e individual. Através das inspeções, a fiscalização é efetivada e a possibilidade de intervir sobre os problemas ou coibi-los torna-se palpável.

A descrição apresentada é exercida através da vigilância

- A) laboral.
- B) entomológica.
- C) ambiental.
- D) sanitária.
- E) nutricional.

38. De acordo com os dados do IBGE, em 2070 aproximadamente 40% da população terá mais de 60 anos. O mesmo órgão apresenta que, no período citado, 1 a cada 10 brasileiros terá mais de 80 anos.



Homem idoso — Foto: Mark Timberlake/Unsplash

<https://valor.globo.com/brasil/noticia>

A notícia retrata a mudança no perfil demográfico e, conseqüentemente, de morbidade da população. Considerando o contexto apresentado, assinale a alternativa que contempla um enfoque atual do uso da epidemiologia.

- A) Análise de incidência de cólera.
- B) Análise da mortalidade por varíola.
- C) Estudo sobre a prevalência de febre amarela na sociedade atual.
- D) Delineamento do perfil epidemiológico da violência contra pessoa idosa.
- E) Mortalidade por doenças infecciosas.

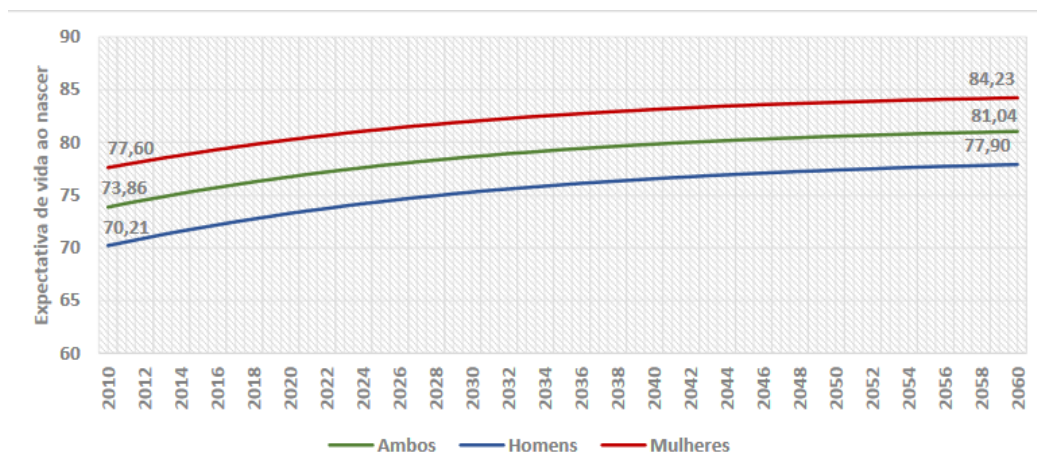
39. Em 2024, o Governo Federal lançou nova estratégia com a finalidade principal de reduzir mortalidade materna em 25% até 2027. Nomeado de Alyne Pimentel, em homenagem a uma gestante que faleceu no sexto mês gestacional por desassistência, a iniciativa busca reestruturar o antigo Rede Cegonha para aprimorar a assistência obstétrica no Brasil.

Considerando o exposto, assinale a alternativa que faz referência ao cálculo do indicador citado no enunciado.

- A) Número de óbitos ocorridos no período perinatal por mil nascimentos totais.
- B) Número de óbitos maternos por 100 mil nascidos vivos de mães residentes.
- C) Número de óbitos de menores de um ano de idade, por mil nascidos vivos.
- D) Número de óbitos por causas externas (acidentes e violência), por 100 mil habitantes.
- E) Número de óbitos de menores de um ano de idade causados por afecções originadas no período perinatal, por mil nascidos vivos.

40. A respeito dos modelos de saúde, é importante elencar que o mais utilizado e conhecido é o de “influência em camadas”. A concepção desse modelo é atribuída a Dahlgren e Whitehead (1991) e foi adaptada por outros autores, dentre esses por Diderichsen e Hallqvist.

Sobre esse modelo observe a imagem abaixo:

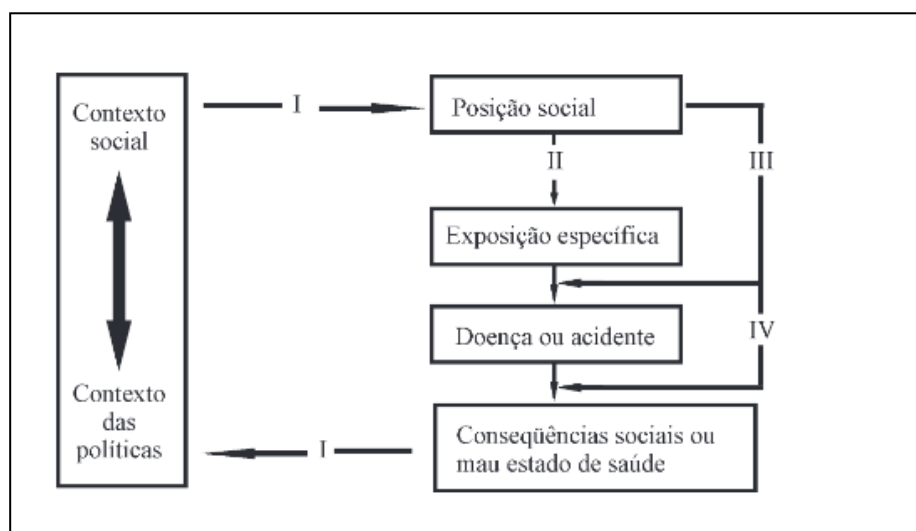


Fonte: Buss, P.M.; Filho, A. P. A Saúde e seus Determinantes Sociais PHYSIS: Rev. Saúde Coletiva, Rio de Janeiro, 17(1):77-93, 2007.

Considerando o contexto e a figura apresentada, assinale a alternativa CORRETA.

- A) A posição social é fator determinante para as condições de saúde das pessoas.
- B) A estratificação social não está relacionada ao adoecimento.
- C) A hegemonia do paradigma bacteriológico se reafirma.
- D) A construção é baseada, sobretudo, na microbiologia do agravo.
- E) A doença não impacta nas condições sociais dos indivíduos.

41. Observe o gráfico abaixo.



Fonte: Elaborado pelo SVSA/MS – projeção da população, edição 2018 do IBGE

Assinale a alternativa que apresenta uma causa ou consequência decorrente dos dados apresentados.

- A) Envelhecimento populacional.
- B) Pirâmide etária jovem.
- C) Redução da expectativa de vida.
- D) Alargamento progressivo da base piramidal etária.
- E) Redução da razão de dependência.

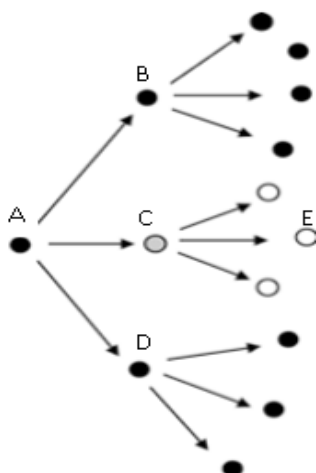
42. Em 2024, a Organização Mundial da Saúde (OMS) declarou a varíola dos macacos como Emergência de Saúde Pública de Importância Internacional (ESPII). O alerta foi realizado visando ordenar uma resposta, coordenada e colaborativa internacionalmente, para lidar com a MPOX.



Considerando as informações apresentadas, assinale a alternativa INCORRETA.

- A) É considerada uma zoonose viral.
- B) A prevenção envolve conscientização comunitária.
- C) Trata-se de uma doença de notificação obrigatória imediata.
- D) Trata-se de uma doença crônica não transmissível, restrita ao território africano.
- E) Consiste em uma doença de caráter transmissível.

43. “Vacina é Vida. Vacina é para Todos”: com esse excerto, o Ministério da Saúde lançou o Movimento Nacional pela Vacinação no intuito de mobilizar toda a população brasileira para alcançar altas coberturas vacinais. Considerando a importância da vacinação, analise a imagem abaixo em que os círculos preenchidos representam os indivíduos doentes, e os vazios, ausência de doença.



Assinale a alternativa que apresenta o indivíduo primeiramente vacinado e imunizado.

- A) A.
- B) B.
- C) C.
- D) D.
- E) E.

44. Uma das utilidades advindas desse sistema de informação é a possibilidade de, através da extração de dados, traçar o perfil de morbidade e mortalidade hospitalar no SUS.

O sistema referido é denominado de

- A) SIH.
- B) SINAN.
- C) SINASC.
- D) SIM.
- E) SISVAN.

45. Observe a imagem abaixo:



Ao longo do tempo, o número de homens foi decrescendo em relação ao número de mulheres. Os resultados do Censo Demográfico 2022 demonstram que o Brasil tem 6,0 milhões de mulheres a mais do que homens.

Nessa perspectiva, assinale a alternativa que apresenta um indicador capaz de expressar a relação quantitativa entre os sexos.

- A) Taxa de fecundidade total.
- B) Grau de urbanização.
- C) População total.
- D) Taxa bruta de mortalidade.
- E) Razão de sexos.

46. Observe as informações abaixo apresentadas:



Fonte: Ministério as Saúde.

O consumo exposto na questão está atrelado aos diversos itens mencionados abaixo, EXCETO

- A) aumento dos custos por internação atreladas ao uso de álcool.
- B) aumento da mortalidade por causas atribuíveis ao uso da substância.
- C) aumento da morbidade.
- D) aumento da prevenção das doenças crônicas não transmissíveis.
- E) aumento da violência.

47. Você, homem ou mulher, tem a noção de que uma mulher, quando menstrua, utiliza uma média de cinco a seis absorventes por dia? Se você considerar o período menstrual cerca de 7 dias, perfaz um total de 35 a 42 absorventes por período menstrual.

Pare para pensar que tudo isso gera um custo fixo para a mulher.



Zambonim, M. E aí, você já parou para pensar sobre pobreza menstrual? Disponível em: <https://petletras.paginas.ufsc.br>. 2021

Pensando nessa temática e considerando o impacto físico, mental e social na população feminina, o governo federal implantou o programa de dignidade menstrual, o qual garante

- A) implementar medidas abortivas imediatas para mulheres que não desejam a gestação.
- B) supressão medicamentosa da menstruação.
- C) pagamento de valor fixo mensal para mulheres em idade reprodutiva.
- D) histerectomia para mulheres em situação de vulnerabilidade.
- E) oferta gratuita de absorventes para mulheres de baixa renda em situação de vulnerabilidade ou matriculadas na rede pública de ensino.

48. Em 2019, as doenças crônicas não transmissíveis (DCNT) foram responsáveis por 41,8% das mortes ocorridas prematuramente, 30 a 69 anos de idade. Para mitigar essa problemática, uma das metas do Plano de Dant 2021-2030 é a redução em 1/3 da mortalidade prematura por doenças crônicas.

Leia as alternativas abaixo e assinale aquela que NÃO apresenta uma causa de óbito relacionada ao contexto do enunciado.

- A) Neoplasias.
- B) Doença respiratórias crônicas
- C) Tuberculose.
- D) Doenças cardiovasculares.
- E) Diabetes.

49. Leia abaixo a introdução de um resumo de estudo científico acerca da morbimortalidade infantil por DCNT.

INTRODUÇÃO: A saúde das crianças é uma preocupação fundamental e a Atenção Primária é crucial para promover e manter seu bem-estar. As doenças crônicas não transmissíveis sensíveis à Atenção Primária à Saúde (DCNT-SAP) são problemas de saúde que, quando identificados e tratados precocemente, podem prevenir hospitalizações e complicações graves, inclusive morte prematura. Essas condições incluem doenças crônicas como diabetes, hipertensão e asma, bem como doenças respiratórias agudas em crianças. O objetivo do estudo foi analisar a evolução temporal e distribuição espacial dos coeficientes de internação e de mortalidade de crianças (0 a 9 anos de idade) por DCNT-SAP, no período de 2010 a 2021, no Brasil.

Fonte: BRASIL, Secretaria de Vigilância em Saúde e Ambiente. Brasil 2023: análise da situação de saúde com enfoque nas crianças brasileiras

Considerando o objetivo apresentado, pode-se afirmar que se trata de um

- A) ensaio clínico randomizado.
- B) estudo de intervenção.
- C) estudo caso-controle.
- D) estudo ecológico.
- E) estudo de coorte.

50. De janeiro a setembro de 2024, o Brasil contabilizou 6,5 milhões de casos prováveis de dengue e 5,3 mil óbitos. Em Pernambuco, registraram-se 29,8 mil casos e oito mortes no mesmo período. Os dados apresentados são fornecidos pelo Ministério da Saúde por meio do Painel de Monitoramento das Arboviroses.

Considerando, hipoteticamente, que no período citado, em Pernambuco, ocorreram 20.000 óbitos, sendo 10.000 por causas mal definidas e que o denominador do indicador considera apenas as causas definidas, calcule a mortalidade proporcional por dengue em Pernambuco.

- A) 0,08
 - B) 0,04
 - C) 8
 - D) 20.000
 - E) 10.000
-

CADERNO 99
SAÚDE COLETIVA / AMPLA
CONCORRÊNCIA